

## ① 2年 分数

年 組 番

名前

かつやさんの学きゅうは40人です。40人分のごはんは下のような入れものに入っています。



かつやさんは、ごはんが足りなくなったり、のこったりしない分け方を考え、下のように言いました。

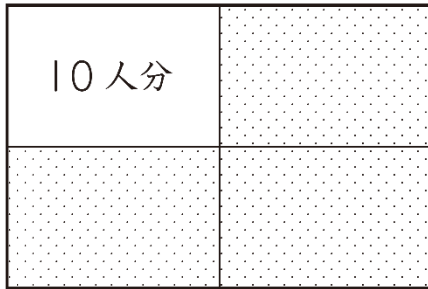


かつや

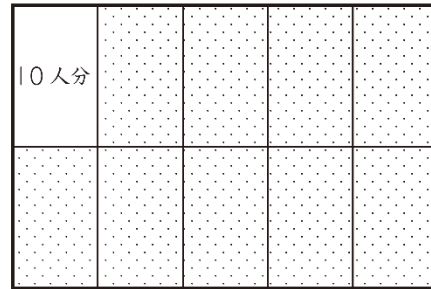
40人分のごはんが入っている入れものを長方形とみて、10人分のめやすをさいしよに作れば、ぜんいんに同じくらいのりょうで分けることができますと思います。

かつやさんの言っているめやすを正しくあらわしている図を、つぎの1から4までの中から**すべて**えらんで、その番ごうを書きましょう。

1



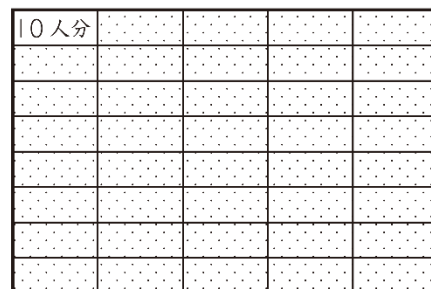
2



3



4



## ① 2年 分数

年 組 番

名前

かつやさんの学きゅうは40人です。40人分のごはんは下のような入れものに入ってきます。



かつやさんは、ごはんが足りなくなったり、のこったりしない分け方を考え、下のように言いました。

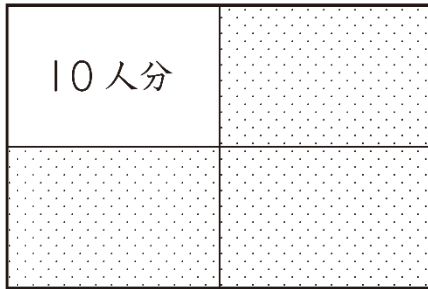


かつや

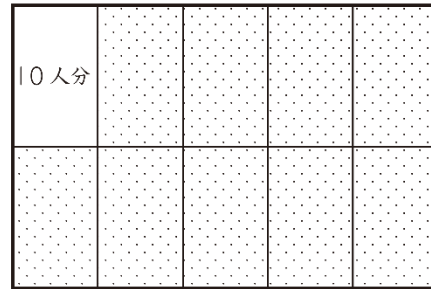
40人分のごはんが入っている入れものを長方形とみて、10人分のめやすをさいしよに作れば、ぜんいんに同じくらいのりょうで分けることができますと思います。

かつやさんの言っているめやすを正しくあらわしている図を、つぎの1から4までの中から**すべて**えらんで、その番ごうを書きましょう。

1



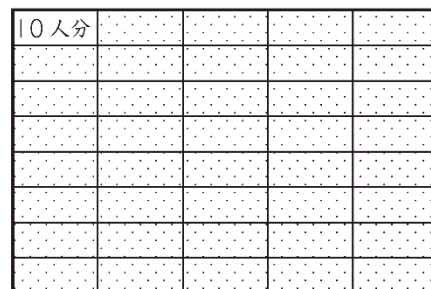
2



3



4



1, 3