

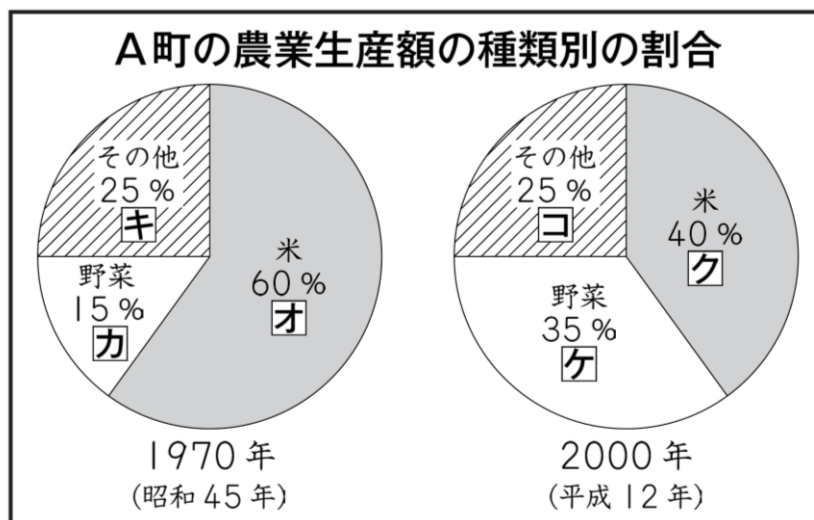
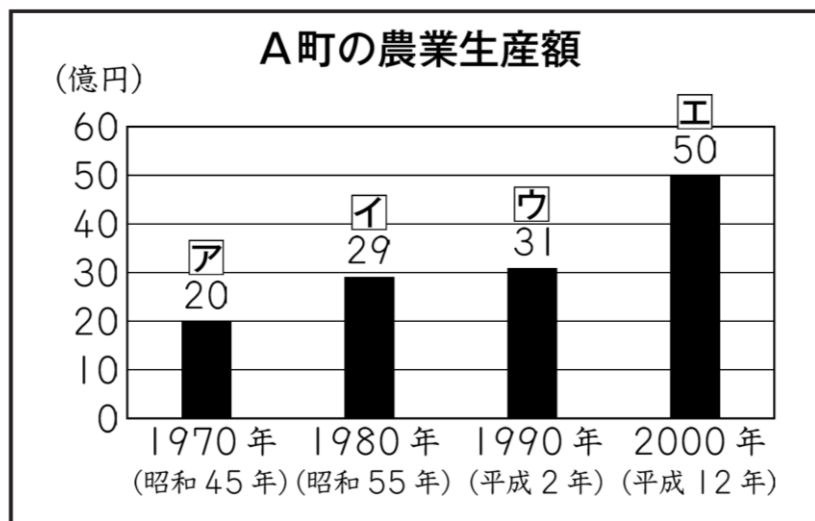
⑪-1 5年 百分率とグラフ

年	組	番
名前		

ひろしさんが住んでいるA町の農業生産額について、下の2種類の資料を使って調べます。

(1) 下のように、棒グラフと円グラフに表された生産額や割合に、**ア**から**コ**までの記号を付けました。

A町の2000年の**野菜**の生産額を求めるためには、資料の中の**ア**から**コ**までのうち、どれが必要ですか。**ア**から**コ**までの中から**2つ**選んで、その記号を書きましょう。



(2) 次は、米について考えます。

A町の1970年と2000年の米の生産額について、ひろしさんは、次のように言いました。

米の割合が、60%から40%に減っているから、
米の生産額は、減っています。



ひろし

ひろしさんの言っていることは、正しいですか。「正しい」か「正しくない」かのどちらかを○で囲みましょう。また、そのわけを、言葉や式を使って書きましょう。

(1)		
(2)	(どちらかを○でかこみましょう)	正しい ・ 正しくない
	わけ	

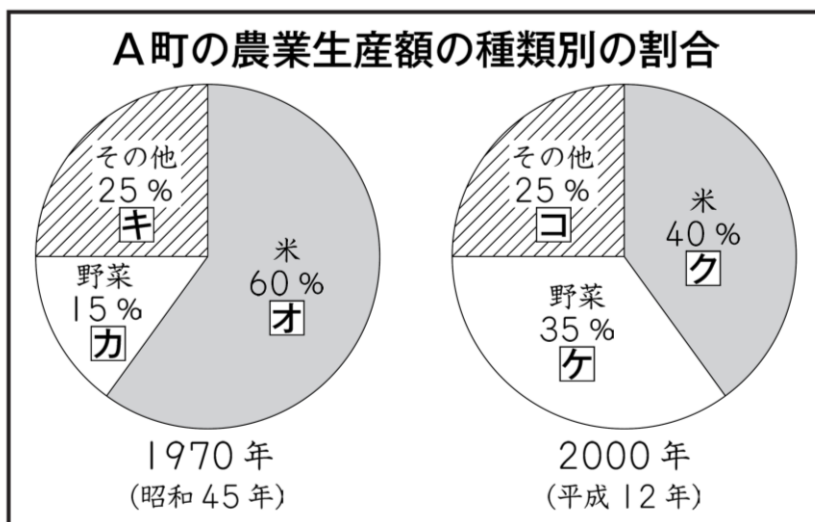
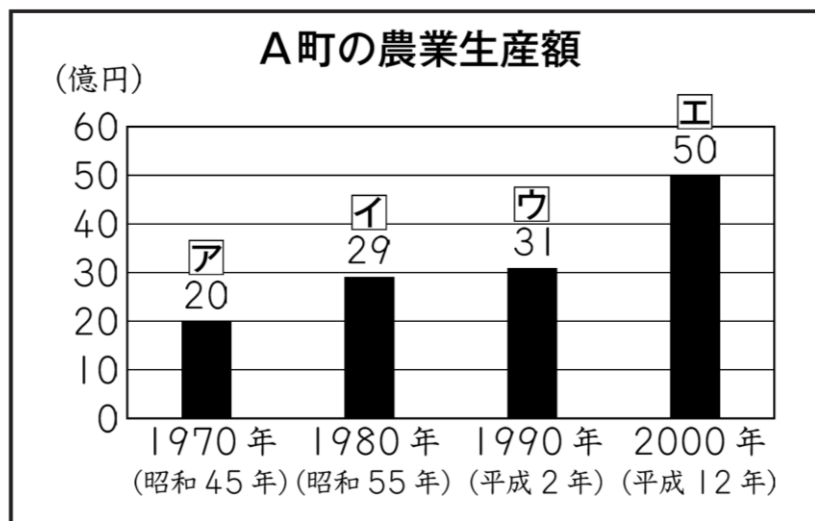
⑪-1 5年 百分率とグラフ

年 組 番
名前

ひろしさんが住んでいるA町の農業生産額について、下の2種類の資料を使って調べます。

(1) 下のように、棒グラフと円グラフに表された生産額や割合に、**ア**から**コ**までの記号を付けました。

A町の2000年の**野菜**の生産額を求めるためには、資料の中の**ア**から**コ**までのうち、どれが必要ですか。**ア**から**コ**までの中から**2つ**選んで、その記号を書きましょう。



(2) 次は、米について考えます。

A町の1970年と2000年の米の生産額について、ひろしさんは、次のように言いました。

米の割合が、60%から40%に減っているから、
米の生産額は、減っています。



ひろしさんの言っていることは、正しいですか。「正しい」か「正しくない」かのどちらかを○で囲みましょう。また、そのわけを、言葉や式を使って書きましょう。

(1)	エ	ケ
	(どちらかを○でかこみましょう)	
	正しい ・ 正しくない	
(2)	<p>わけ</p> <p>(正答の条件)</p> <ul style="list-style-type: none"> ・「正しくない」を選択し、次の①、②の両方、または、いずれか一方を書いている。 <p>①「ひろしさんの判断の方法（米の生産額の増減を割合だけで判断している）の誤りの指摘</p> <p>②1970年と2000年の米の生産額について、数値や式を基にした大小比較</p> <p>(正答例)</p> <ul style="list-style-type: none"> ・「正しくない」を選択 <p>米の生産額は、農業生産額×米の生産額の割合 で求められるから、米の生産額を比べるためには、米の生産額の割合だけでなく、農業生産額も考えなければならない。</p> <p>また、米の生産額を求めると、12億円から20億円に増えている。</p> <p>だから、ひろしさんの言っていることは、正しくない。</p>	