

③

資料の分析と活用

年 組 番

名前

体育委員会は、全校生徒の体力向上のために、1週間で420分（1日あたり60分）運動することを目標にしようと考えています。そこで、体育委員会では、全校生徒の1週間の総運動時間を調べるアンケートを実施しました。体育委員の若菜さんは、全校生徒のうち女子の結果を、下の度数分布表にまとめました。

1週間の総運動時間の度数分布表（女子）

階級(分)	度数(人)
以上 未満 0 ~ 300	55
300 ~ 600	12
600 ~ 900	26
900 ~ 1200	29
1200 ~ 1500	15
1500 ~ 1800	6
1800 ~ 2100	2
合計	145

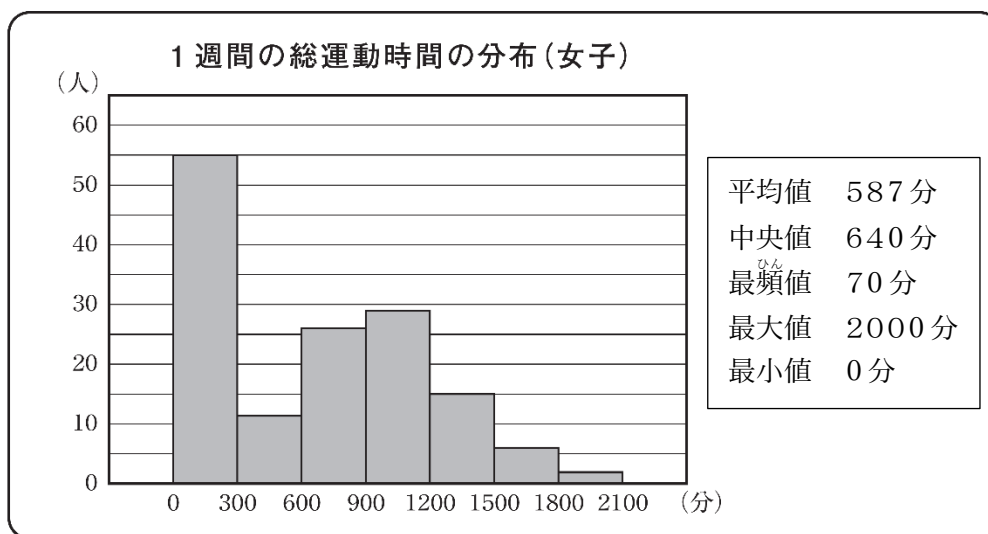
次の(1)から(3)までの各問いに答えなさい。

- (1) 1週間の総運動時間の度数分布表（女子）において、420分が含まれる階級の度数を書きなさい。



(2) 若菜さんは、女子の1週間の総運動時間について調べたことを、次のようにまとめました。

若菜さんが調べたこと



若菜さんの1週間の総運動時間は670分です。全校生徒の女子の中で、若菜さんの1週間の総運動時間より長い人が多いのか、短い人が多いのかは、670分をある値と比べることでわかります。その値が、下のアからオまでの中にあります。それを1つ選びなさい。

ア 平均値

イ 中央値

ウ 最頻値

エ 最大値

オ 最小値

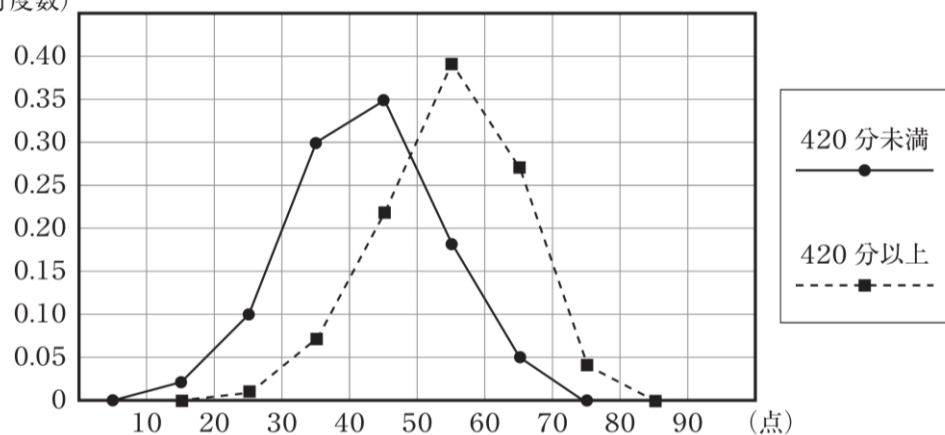
- (3) 若菜さんは、1週間の総運動時間が420分未満と420分以上の女子では、体力テストの合計点に違いがあるのではないかと考えました。そこで、420分未満と420分以上の女子で分けて、体力テストの合計点をまとめた度数分布表をもとに、相対度数を求め、相対度数の度数分布多角形(度数折れ線)に表しました。

体力テストの合計点の度数分布表

階級(点)	420分未満		420分以上	
	度数(人)	相対度数	度数(人)	相対度数
10～20	1	0.02	0	0.00
20～30	6	0.10	1	0.01
30～40	18	0.30	6	0.07
40～50	21	0.35	19	0.22
50～60	11	0.18	33	0.39
60～70	3	0.05	23	0.27
70～80	0	0.00	3	0.04
合計	60	1.00	85	1.00

若菜さんが作った度数分布多角形

(相対度数)



若菜さんが作った度数分布多角形から、「1週間の総運動時間が420分以上の女子は、420分未満の女子より体力テストの合計点が高い傾向にある」と主張することができます。そのように主張することができる理由を、若菜さんが作った度数分布多角形の2つの度数分布多角形の特徴を比較して説明しなさい。

(1)		(2)	
(3)			

③

資料の分析と活用

年 組 番

名前


体育委員会は、全校生徒の体力向上のために、1週間で420分（1日あたり60分）運動することを目標にしようと考えています。そこで、体育委員会では、全校生徒の1週間の総運動時間を調べるアンケートを実施しました。体育委員の若菜さんは、全校生徒のうち女子の結果を、下の度数分布表にまとめました。

1週間の総運動時間の度数分布表（女子）

階級(分)	度数(人)
以上 未満 0 ~ 300	55
300 ~ 600	12
600 ~ 900	26
900 ~ 1200	29
1200 ~ 1500	15
1500 ~ 1800	6
1800 ~ 2100	2
合計	145

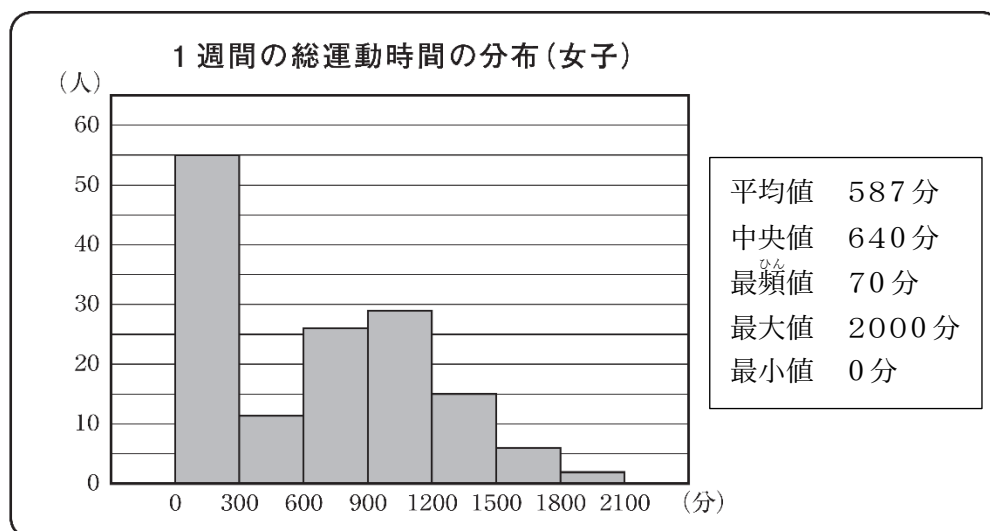
次の(1)から(3)までの各問いに答えなさい。

- (1) 1週間の総運動時間の度数分布表（女子）において、420分が含まれる階級の度数を書きなさい。



(2) 若菜さんは、女子の1週間の総運動時間について調べたことを、次のようにまとめました。

若菜さんが調べたこと



若菜さんの1週間の総運動時間は670分です。全校生徒の女子の中で、若菜さんの1週間の総運動時間より長い人が多いのか、短い人が多いのかは、670分をある値と比べることでわかります。その値が、下のアからオまでの中にあります。それを1つ選びなさい。

ア 平均値

イ 中央値

ウ 最頻値

エ 最大値

オ 最小値

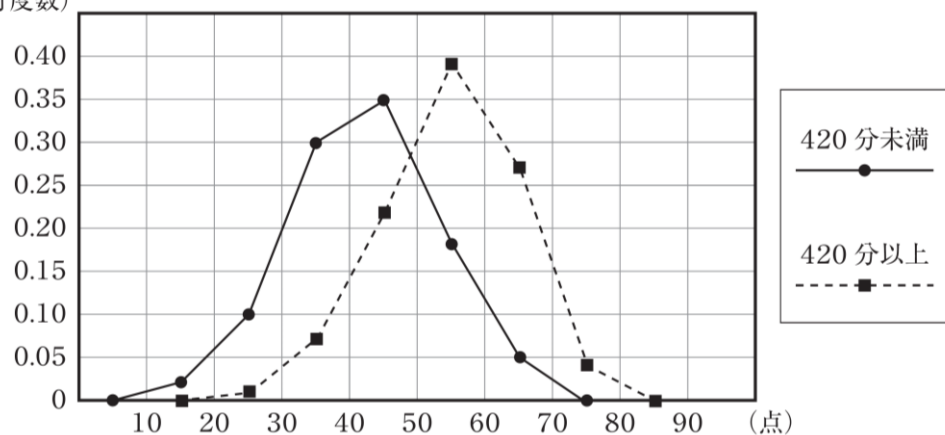
- (3) 若菜さんは、1週間の総運動時間が420分未満と420分以上の女子では、体力テストの合計点に違いがあるのではないかと考えました。そこで、420分未満と420分以上の女子で分けて、体力テストの合計点をまとめた度数分布表をもとに、相対度数を求め、相対度数の度数分布多角形(度数折れ線)に表しました。

体力テストの合計点の度数分布表

階級(点)	420分未満		420分以上	
	度数(人)	相対度数	度数(人)	相対度数
10～20	1	0.02	0	0.00
20～30	6	0.10	1	0.01
30～40	18	0.30	6	0.07
40～50	21	0.35	19	0.22
50～60	11	0.18	33	0.39
60～70	3	0.05	23	0.27
70～80	0	0.00	3	0.04
合計	60	1.00	85	1.00

若菜さんが作った度数分布多角形

(相対度数)



若菜さんが作った度数分布多角形から、「1週間の総運動時間が420分以上の女子は、420分未満の女子より体力テストの合計点が高い傾向にある」と主張することができます。そのように主張することができる理由を、若菜さんが作った度数分布多角形の2つの度数分布多角形の特徴を比較して説明しなさい。

(1)	1 2	(2)	イ
(3)	<p>(正答の条件) 次の (a), (b) について記述しているもの。</p> <p>(a) 4 2 0 分未満の度数分布多角形よりも 4 2 0 分以上の度数分布多角形の方が右側にあること。</p> <p>(b) 1 週間の総運動時間が 4 2 0 分以上の女子は, 4 2 0 分未満の女子より体力テストの合計点が高い傾向にあること。</p> <p>(正答例) 2 つの度数分布多角形が同じような形で, 4 2 0 分未満の度数分布多角形よりも 4 2 0 分以上の度数分布多角形の方が右側にある。したがって, 1 週間の総運動時間が 4 2 0 分以上の女子は, 4 2 0 分未満の女子より体力テストの合計点が高い傾向にある。</p>		